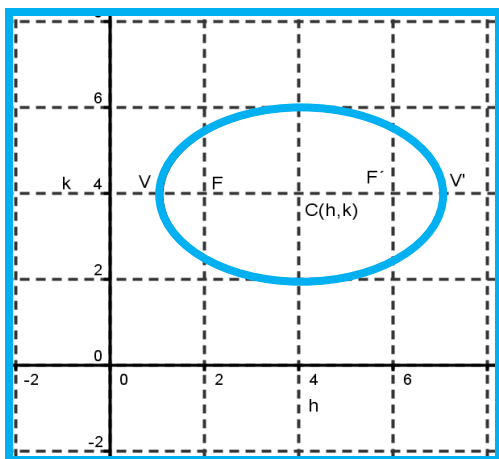


3.1.3. Ecuación ordinaria de la elipse con su centro fuera del origen.

Si el centro de la elipse está fuera del origen del sistema coordenado, entonces tendrá como centro $C(h, k)$ como se muestra en la siguiente figura:



Por lo que la ecuación y las fórmulas para determinar sus vértices, focos, LLR y la excentricidad serán:

Figura.	Ecuación.	Fórmulas.
	$\frac{(x-h)^2}{a^2} + \frac{(y-k)^2}{b^2} = 1$ $a > b$ $a^2 = b^2 + c^2$	$C(h, k)$ $F'(h+c, k)$ $F(h-c, k)$ $V'(h+a, k)$ $V(h-a, k)$ $LLR = \frac{2b^2}{a}$ $e = \frac{c}{a}$
	$\frac{(x-h)^2}{b^2} + \frac{(y-k)^2}{a^2} = 1$ $a > b$ $a^2 = b^2 + c^2$	$C(h, k)$ $F(h, k+c)$ $F'(h, k-c)$ $V(h, k+a)$ $V'(h, k-a)$ $LLR = \frac{2b^2}{a}$ $e = \frac{c}{a}$

Ejemplos resueltos.

Ejemplo 1.

Hallar las coordenadas de los vértices, focos, LLR, excentricidad y la gráfica de la elipse cuya

$$\text{ecuación es } \frac{(x-3)^2}{16} + \frac{(y-4)^2}{9} = 1.$$

Como “a” siempre es mayor que “b” tenemos que la ecuación es:

$$\frac{(x-3)^2}{16} + \frac{(y-4)^2}{9} = 1$$

$$\frac{(x-h)^2}{a^2} + \frac{(y-k)^2}{b^2} = 1$$

$$a^2=16 \quad a=\sqrt{16} \quad a=4$$

$$b^2=9 \quad b=\sqrt{9} \quad b=3$$

Para conocer el valor de “c”, se aplica el Teorema de Pitágoras:

$$a^2=b^2+c^2$$

$$c=\sqrt{a^2-b^2}$$

$$c=\sqrt{16-9}$$

$$c=\sqrt{7} \quad c=2.64$$

$$-h=-3 \quad h=3$$

$$-k=-4 \quad k=4$$

$$C(h, k) \quad C(3, 4)$$

$$F'(h+c, k) \quad F'(3+2.64, 4) \quad F'(5.64, 4)$$

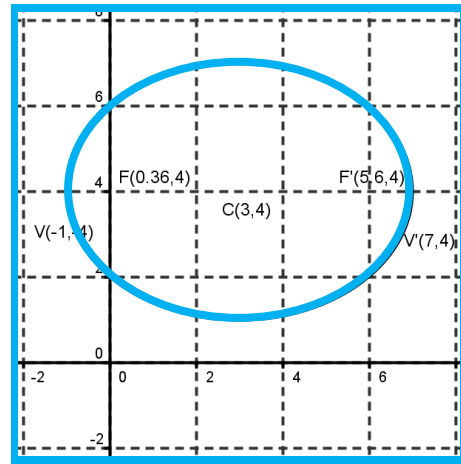
$$F(h-c, k) \quad F(3-2.64, 4) \quad F(0.36, 4)$$

$$V'(h+a, k) \quad V'(3+4, 4) \quad V'(7, 4)$$

$$V(h-a, k) \quad V(3-4, 4) \quad V(-1, 4)$$

$$LLR = \frac{2b^2}{a} = \frac{2(9)}{4} = \frac{18}{4} = 4.5$$

$$e = \frac{c}{a} = \frac{2.64}{4} = 0.66$$



Ejemplo 2. Hallar las coordenadas de los vértices, focos, LLR, excentricidad y gráfica de la

$$\text{elipse cuya ecuación es } \frac{(x+2)^2}{16} + \frac{(y-4)^2}{25} = 1$$

Como “a” siempre es mayor que “b” tenemos que la ecuación es:

$$\frac{(x+2)^2}{16} + \frac{(y-4)^2}{25} = 1$$

$$\frac{(x-h)^2}{b^2} + \frac{(y-k)^2}{a^2} = 1$$

$$a^2=25 \quad a=\sqrt{25} \quad a=5$$

$$b^2=16 \quad b=\sqrt{16} \quad b=4 \quad \text{para conocer el valor de}$$

“c”, se aplica el Teorema de Pitágoras.

$$a^2=b^2+c^2$$

$$c=\sqrt{a^2-b^2} \quad c=\sqrt{25-16} \quad c=\sqrt{9} = 3$$

$$-h=2 \quad h=-2$$

$$-k=-4 \quad k=4$$

$$C(h, k) \quad C(-2, 4)$$

$$F(h, k+c) \quad F(-2, 4+3) \quad F(-2, 7)$$

$$F'(h, k-c) \quad F'(-2, 4-3) \quad F'(-2, 1)$$

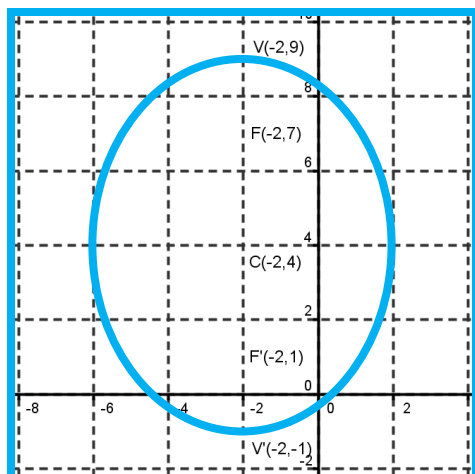
$$V(h, k+a) \quad V(-2, 4+5) \quad V(-2, 9)$$

$$V'(h, k-a) \quad V'(-2, 4-5) \quad V'(-2, -1)$$

$$LLR = \frac{2b^2}{a} = \frac{2(16)}{5} = \frac{32}{5} = 6.4$$

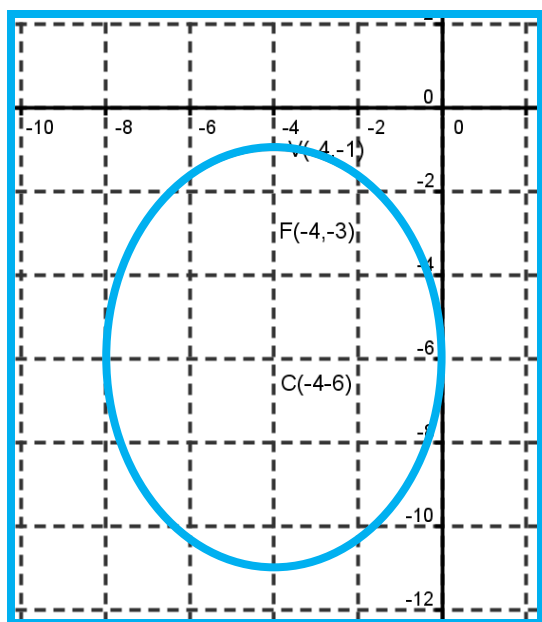
$$e = \frac{c}{a} = \frac{3}{5} = 0.6$$

Su gráfica queda de la siguiente manera:



Ejemplo 3.

Hallar la ecuación ordinaria de la elipse, si se sabe que su $C(-4, -6)$, su $F(-4, -3)$ y su $V(-4, -1)$.



Después de graficar los datos se deduce que su ecuación es de la forma:

$$\frac{(x-h)^2}{b^2} + \frac{(y-k)^2}{a^2} = 1$$

Por lo que debemos conocer el valor de "a" y de "b".

Para conocer la ecuación sabemos que:

$$C(h, k) \quad C(-4, -6) \quad h=-4 \quad k=-6$$

$F(h, k+c) \quad F(-4, -3)$ pero $k+c=-3$ por lo que:

$$c=-3-k \quad c=-3-(-6) \quad c=-3+6 \quad c=3$$

$V(h, k+a) \quad V(-4, -1)$ pero $k+a=-1$ por lo que:

$$a=-1-k \quad a=-1-(-6) \quad a=-1+6 \quad a=5$$

Para encontrar "b" sabemos que:

$$a^2=b^2+c^2$$

$$b=\sqrt{a^2-c^2}$$

$$b=\sqrt{5^2-3^2}$$

$$b=\sqrt{25-9}$$

$$b=\sqrt{16}$$

$$b^2=16$$

Por lo tanto su ecuación es:

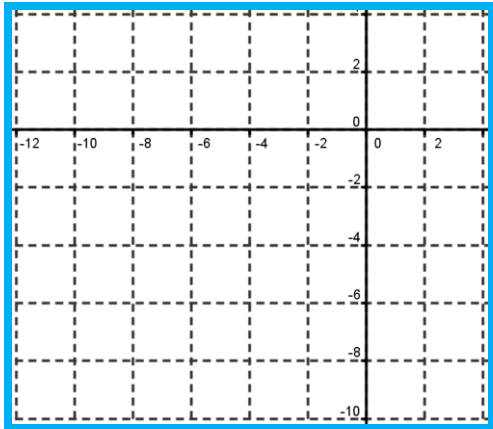
$$\frac{(x+4)^2}{16} + \frac{(y+6)^2}{25} = 1$$

Ejercicios para realizar en clase.

Ejercicio 1.

Hallar las coordenadas de los vértices, focos, LLR, la excentricidad y gráfica de la elipse

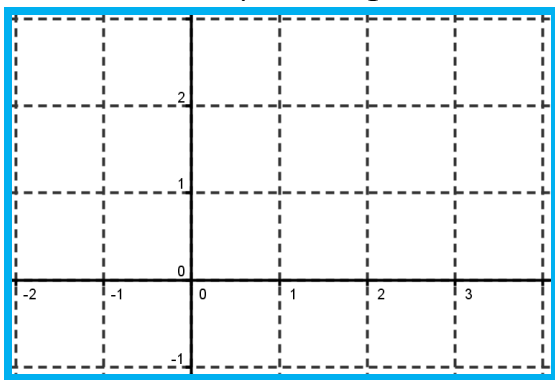
cuya ecuación es $\frac{(x+4)^2}{36} + \frac{(y+3)^2}{25} = 1$.



Ejercicio 2.

Hallar las coordenadas de los vértices, focos, LLR, la excentricidad y gráfica de la elipse cuya

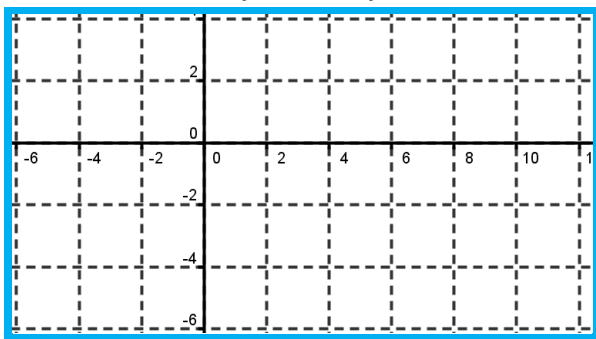
ecuación es $\frac{(x-1)^2}{4} + \frac{(y-1)^2}{1} = 1$.



Ejercicio 3.

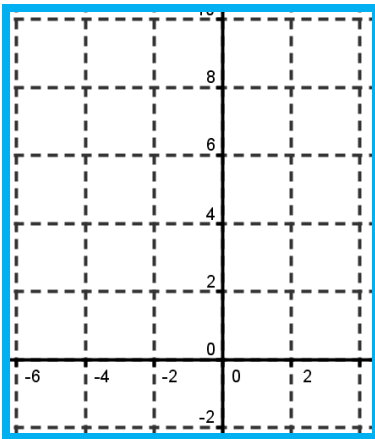
Hallar las coordenadas de los vértices, focos, LLR, la excentricidad y gráfica de la elipse cuya

ecuación es $\frac{(x-3)^2}{49} + \frac{(y+1)^2}{9} = 1$.



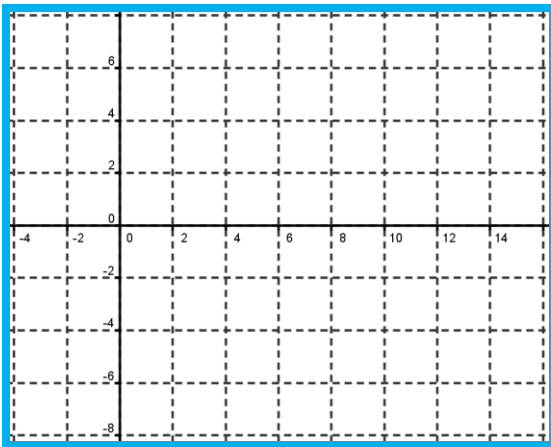
Ejercicio 4.

Hallar las coordenadas de los vértices, focos, LLR, la excentricidad y gráfica de la elipse cuya ecuación es $\frac{(x+1)^2}{16} + \frac{(y-4)^2}{25} = 1$.



Tarea de evaluación.

1. Hallar las coordenadas de los vértices, focos, LLR, la excentricidad y gráfica de la elipse cuya ecuación es $\frac{(x-6)^2}{64} + \frac{(y-1)^2}{49} = 1$.



2. Hallar las coordenadas de los vértices, focos, LLR, la excentricidad y gráfica de la elipse cuya ecuación es $\frac{(x-4)^2}{9} + \frac{(y-2)^2}{5} = 1$.

