




IN LABORATORIO AVETE USATO IL SOFTWARE DIDATTICO "IN AULA" PER ESERCITARVI A SVOLGERE PROBLEMI DI CONFRONTO TRA QUANTITA'.

**ORA CONTINUEATE A ESERCITARVI IN CLASSE!
RISOLVETE I SEGUENTI PROBLEMI. RISPONDETE ALLE DOMANDE DISEGNANDO NELLO SPAZIO LIBERO GLI ELEMENTI RICHIESTI E INSERENDO IL RISULTATO NEL RIQUADRO IN BASSO.**

Azzera esercizi Esercizi completati Esci


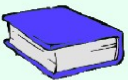
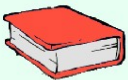



Ci sono nove banchi e sette libri. Appoggio un libro su ogni banco. Quanti banchi rimangono senza libro?

Esatti 0
Errati 0



Azzera esercizi Esercizi completati Esci







Ci sono quattro libri blu. Se ad ogni libro blu metto vicino un libro rosso, rimangono sei libri rossi. Quanti sono i libri rossi?

Esatti 1
Errati 0

Trascina e rilascia il libro sul pulsante con le frecce per cambiarne il colore





I libri aperti sono uno in più rispetto ai libri chiusi, che sono otto. Quanti sono i libri aperti?

Esatti 6
Errati 0

Trascina e rilascia il libro sul pulsante con le frecce per aprirlo o chiuderlo



I banchi sono sette in più delle sedie, che sono due. Quanti sono i banchi?

Esatti 2
Errati 2





Le femmine sono cinque in meno rispetto ai maschi, che sono otto. Quante sono le femmine?

Esatti 1
Errati 0



AUTOVALUTAZIONE

Com'è andato l'esercizio? _____

Sei stato in grado di svolgerli da solo? _____

Hai avuto difficoltà? _____

Ti è servito fare il disegno? _____

Hai utilizzato altre strategie per risolvere i problemi? Quali?

Quanti problemi hai svolto correttamente? _____

Pensi di aver capito gli eventuali errori commessi? _____