

# Le cadre physique

La France est presque située à égale distance du Pôle et de l'Équateur et elle s'ouvre sur la mer du Nord, l'océan Atlantique et la mer Méditerranée.

Elle appartient à l'Europe du Nord-Ouest, mais sa côte sud lui donne une ouverture sur l'espace méditerranéen.

Le territoire français présente une grande variété de reliefs :

- des bassins et des plaines qui couvrent les deux tiers du territoire : le **Bassin Aquitain** et le **Bassin Parisien** ;
- des plateaux : le **Massif Armoricain** ;
- des ensembles montagneux d'origine très ancienne, aux formes arrondies : les **Vosges** et le **Massif Central** ;
- des montagnes plus récentes, aux fortes dénivélations : la **Corse**, le **Jura**, les **Pyrénées** et les **Alpes**.

La France est riche en cours d'eau, parfois modestes par leur dimension, mais qui toutefois jouent un rôle important dans la vie du pays :

- la **Seine**, 776 km
- la **Loire**, 1 012 km
- la **Garonne**, 575 km
- le **Rhône**, 812 km
- le **Rhin**, 1 300 km, dont 190 sur la frontière française.



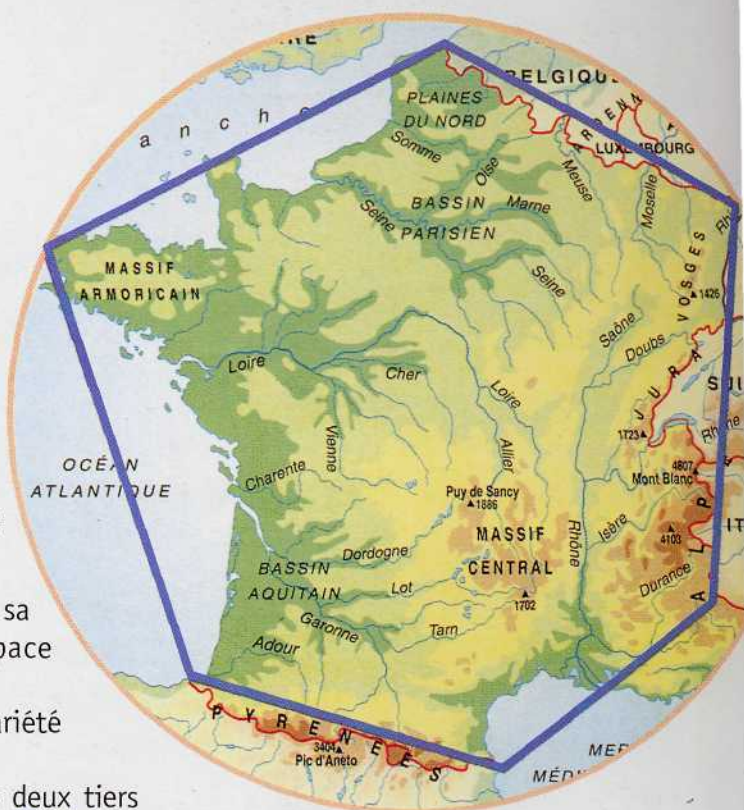
## Le climat



L'influence de l'océan, l'influence continentale et du relief, en même temps que sa latitude, déterminent le climat de la France, dans l'ensemble tempéré et assez varié.



## QUELQUES DONNÉES

Superficie	551 695 km <sup>2</sup>
Population	58,6 millions d'habitants
PNB	21 500 euros par habitants
Taux de natalité	13%
Taux de mortalité	9%





# Vrai ou faux?

## Dans le texte

1. Lis les informations, regarde la carte à la page ci-contre et dis si les affirmations suivantes sont **vraies ou fausses**.

- |   | vrai                  | faux                  |
|---|-----------------------|-----------------------|
| 1. Les plaines sont surtout situées au nord du pays.            | <input type="radio"/> | <input type="radio"/> |
| 2. Le Centre du pays est montagneux.                            | <input type="radio"/> | <input type="radio"/> |
| 3. La France a la forme d'un hexagone.                          | <input type="radio"/> | <input type="radio"/> |
| 4. Les côtes occidentales sont riches en reliefs.               | <input type="radio"/> | <input type="radio"/> |
| 5. Les Alpes et les Pyrénées forment des frontières naturelles. | <input type="radio"/> | <input type="radio"/> |

2a. Dis quel est le fleuve :

- qui se jette dans la mer Méditerranée
- le plus long
- qui sépare la France de l'Allemagne
- avec le parcours le plus sinueux
- qui naît dans les Pyrénées

2b. Trouve les noms :

- des montagnes qui séparent la France de l'Italie
- de la plaine située dans la partie nord du pays
- des montagnes qui séparent la France de l'Espagne
- du relief le plus central
- de la plaine traversée par la Garonne

## VERS L'EXAMEN

3. Regarde la carte à côté, relis les informations sur le climat et réponds aux questions suivantes.

- Quels sont les quatre principaux climats de la France ?
- Comment peut s'expliquer la diversité des climats en France ?
- La France est-elle riche en pluies ?
- Dans quelle zone pleut-il rarement ?
- Dans quelles régions l'hiver est-il le plus dur ?
- Quel climat y a-t-il à Paris? Et à Marseille ?

